

الصف الثالث الثانوي

النموذج التاسع

1) "تهدف دول كتل الميركسور (الأرجنتين والبرازيل وباراجواي وأورجواي) إلى تعزيز التكامل السياسي والاجتماعي بينهم "

فى ضوء العبارة يصنف كتل الميركسور على أنه

أ- وحدة سياسية

ب- تجمع إقليمي

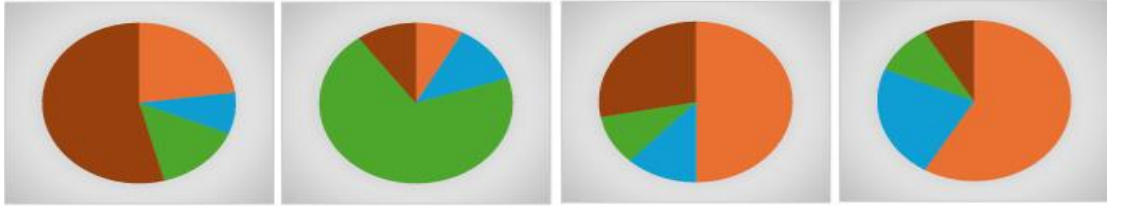
ج- قوى عظمى

د- تجمع دولي

2) ادرس الشكل المقابل ثم استنتج

الشكل الذي يعبر عن النظام السياسي والإداري المركزي الذي يرمز له بالرمز

البرلمان
السلطة المحلية
السلطة التنفيذية
المحافظ



س

ع

ص

ل

أ- ل

ب- ص

ج- ع

د- س

3) " ضرب زلزال جنوب تركيا وامتدت اهتزازاته إلى شمال سوريا في 6 فبراير 2023 وخلف وراءه أرقاماً مرعبه "

فى ضوء العبارة استنتج

يتم توفير بيانات عن حجم الخسائر باستخدام تقنية

أ- نظام تحديد المواقع العالمى

ب- نظم المعلومات الجغرافية

ج- وسائل الاتصالات الحديثة

د- الاستشعار من بُعد

4) "مرت الجغرافيا السياسية بعدة مراحل ما بين فلسفية وعلمية"
فى ضوء العبارة استنتج
المرحلة العلمية للجغرافيا السياسية كانت على يد دولة.....

- أ- السويد
- ب- ألمانيا
- ج- تونس
- د- اليونان

5) الاغلبيه العرقية التى حصلت على حقوقها فى العالم القديم تنتمى إلى دولة ذات موقع.....

- أ- حبيس
- ب- مركزى
- ج- استراتيجي
- د- بحري

6) المناطق البحرية التى تسعى الدول إلى توسيع نطاقها هى

- أ- المياه الإقليمية والرصيف القارى
- ب- المياه الداخلية والمياه الإقليمية
- ج- المياه الداخلية والمياه الملاصقة
- د- المياه التكميلية والمياه الدولية

7) كان للنظام العالمى الجديد أثر اجتماعيا سلبياً على منطقة

- أ- شرق آسيا
- ب- غرب أوروبا
- ج- غرب آسيا
- د- شرق أوروبا

8) يعود السبب وراء تعديل حدود افغانستان مع الدولة المؤسسه لحلف وارسو إلى.....

- أ- إنتهاء الرأسمالية
- ب- إنتهاء الشيوعية
- ج- ظهور عدم الإنحياز
- د- ظهور دولة يوغسلافيا

9) تم إطلاق مبادرة (بداية جديدة لبناء إنسان) في مصر والتي تدخل ضمن مفهوم

- أ- التداول السلمي للسلطة
- ب- نظام الحكم الديمقراطي
- ج- النظام السياسي في صورته الاجتماعية
- د- النظام السياسي في صورته المؤسسية

10) من أهم العوامل التي ساعدت سكان تيمور الشرقية على الانفصال

- أ- رغبة سكان تيمور في حكم فيدرالي
- ب- الجانب المورفولوجي لدولة إندونيسيا
- ج- الدوافع الاقتصادية لدى سكان تيمور
- د- دور الأمم المتحدة في مساندة حركات التحرر

11) أولى العلاقات الدولية بالعالم شهدتها منطقة البحر

- أ- البلطي
- ب- الكاريبي
- ج- المتوسط
- د- الأسود

12) تمثل مصبات الأنهار أحد اشكال المياه الداخلية والتي تختفي فى

- أ- ايطاليا
- ب- أوغندا
- ج- هولندا
- د- فرنسا

13) الممر المائي الذي شهد مشكلة سياسية ترجع جذورها التاريخية إلى القرن الخامس عشر هو مضيق

- أ- هرمز
- ب- صقلية
- ج- باب المندب
- د- جبل طارق

14) أكثر التغيرات التي شهدتها خريطة العالم السياسية فيما بين الحربين تظهر في العالم

- أ- القديم
- ب- الجديد
- ج- المتقدم
- د- النامي

15) أمامك شكل بياني يوضح مساحة الغابات في بعض دول العالم نستنتج أن الدولة (س) تمتلك النصيب الأكبر في القوة



- أ- العسكرية والاجتماعية
- ب- الاقتصادية والعسكرية
- ج- الاجتماعية والسياسية
- د- الاقتصادية والسياسية

16) تم اختراق الأمن الثقافي العربي عن طريق

- أ- العولمة الاقتصادية
- ب- العولمة الاجتماعية
- ج- التكتلات الاقتصادية
- د- الأقليات اللغوية

17) "الدولة العربية التي قامت بعدة محاولات لحل مشكلات الرعاة تتميز بـ

- أ- تعدد واجهاتها البحرية
- ب- صعوبة اتصالها بالعالم الخارجي
- ج- عاصمتها بسهولة الوصول
- د- تنوع اقاليمها المناخية والنباتية

18) تتشابه معظم الحدود السياسية في الجزائر وبيرو في

- أ- سبب نشأة الحد السياسي
- ب- تعرضها لعوامل التعرية
- ج- مأهولة بالسكان
- د- غنية اقتصاديًا

19) ادرس الخريطة ثم استنتج

تختلف دولة جنوب السودان عن الدولة الواقعة جنوبها فى



- أ- عدد الدول الحبيسة المجاورة لها
- ب- عدد الدول البحرية المجاورة لها
- ج- الاشتراك فى حدود بحيرية
- د- الموقع بالنسبة لليابس والماء

20) المنفذ البحري الذي ينعلم تعرض دوله المطله عليه لخطر الهجرة الغير قانونية

- أ- البحر الأدرياتي
- ب- البحر البلطي
- ج- البحر العربى
- د- خليج عمان

21) أى من أشكال المسطحات المائية التالية من المتوقع أن تتساوى بها عدد دوائر العرض وخطوط الطول تقريبا

.....

- أ- بحر العرب
- ب- بحيرة فيكتوريا
- ج- بحيرة إبرى
- د- بحر قزوين

22) دراسه العوامل الطبيعيه والبشريه والاقتصاديه وأثرها على السلوك السياسية للأفراد يدرس ضمن

- أ- علم الجيوبولتيك
- ب- جغرافيا الانتخابات
- ج- التحليل السياسى للقوة
- د- المشكلات السياسية

23) الدولة التي عانت من عوامل التعرية النهرية تتسم ب

أ- السلطة التنفيذية في يد رئيس الوزراء وحده

ب- الفصل بين السلطات الثلاثة في الدولة

ج- اقتسام السلطة التنفيذية بين الرئيس والبرلمان

د- وجود رئيس أو ملك يسود ولا يحكم

24) إذا تحركت سفينه من مسافة 24 ميلاً بحرياً متجهة نحو ميناء الساحل وتوقفت بعد أن قطعت مسافة 18 ميلاً

بحرياً فإنها بذلك تقف على مسافة متساوية بين

أ- حافة خارجية للاقليميه وحافة داخلية للمحايدة

ب- حافة خارجيه للاقليميه وحافة خارجيه للتكميليه

ج- الحد السياسي البحري وخط الساحل

د- حافة داخلية للإقليمية وخط الساحل

25) تؤثر المقومات الطبيعية في قوة الدولة في مجالات " خصائص السكان - السياحة - الثروة الحيوانية"

في ضوء العبارة استنتج

الدول التي تأثرت بشكل إيجابي وتتفق مع العبارة السابقة على الترتيب

أ- أستراليا- الكونغو - سوريا

ب- أستراليا- لبنان - إيطاليا

ج- سوريا- أستراليا - ليبيا

د- المانيا - لبنان - الأرجنتين

26) التكتل الذي يحتوي علي أقلية حرمت من التمتع بثقافتها الخاصة هو.....

أ- النافتا

ب- الاتحاد الأوروبي

ج- الكوميسا

د- اتحاد المغرب العربي

27) أي المنظمات التالية ترتبط أهدافها ارتباطاً وثيقاً مع أهداف اتفاقية الإيكواس

أ- صندوق النقد الدولي

ب- اليونيدو

ج- الفاو

د- جامعه الدول العربيه

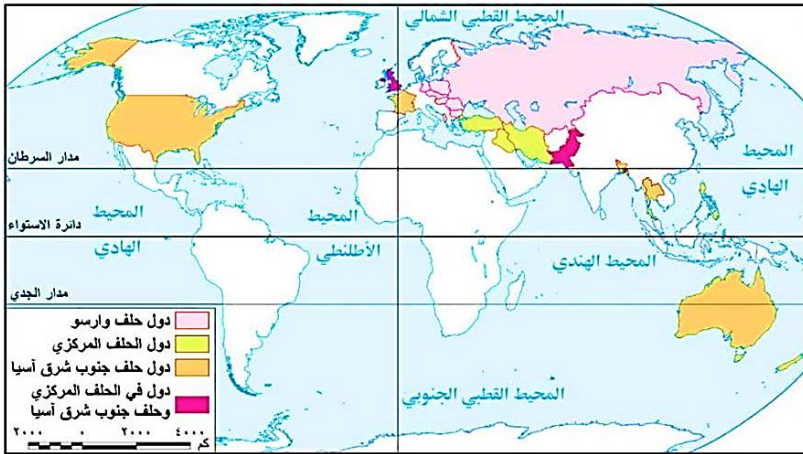
28) حال نجاح الأقلية اللغوية في الوطن العربي في الاستقلال فمن المتوقع زيادة عدد الدول المجاورة لدولة.....

- أ- لبنان
- ب- سوريا
- ج- الأردن
- د- فلسطين

29) تصاعد مشكلة سبته ومليلة يتزامن مع

- أ- عقد مؤتمر الصلح بباريس
- ب- عقد مؤتمر سان فرانسيسكو
- ج- سياسة إعادة البناء الاقتصادي
- د- انقسام المانيا وإقامة سور برلين

30) ادرس الخريطة أمامك ثم استنتج:
دولة رغم أنها كانت محاطة بالأحلاف العسكرية من جميع جهاتها إلا أنها ظلت بعيدة عن الانضمام لأي حلف عسكري



- أ - أفغانستان
- ب- باكستان
- ج- بنجلادش
- د- العراق

31) " يفصل البحر الأحمر بين تكتلين اقتصاديين "

في ضوء العبارة استنتج

أي الدول التالية خارج النطاق الجغرافي للتكتلين.....

- أ- إريتريا
- ب- الكويت
- ج- السعودية
- د- تنزانيا

32) (ارمينيا - جورجيا - اذربيجان) لعبت أهمية هذه الدول دور كبير فى الحرب

- أ- العالمية الثانية
- ب- الباردة
- ج- الروسيه الأوكرانية
- د- العالمية الأولى

33) القاسم المشترك بين جميع التكتلات الاقتصادية هو

- أ- الاتصال الأرضي لدول التكتل
- ب- تشابه النظم السياسية لدول التكتل
- ج- القوة الديموجرافية لدول التكتل
- د- التمثيل الدبلوماسي المستقل لدول التكتل

34) كان لتطور وسائل النقل والمواصلات أثره فى نشأة الحدود.....



- أ- شمال روسيا
- ب- غرب البرتغال
- ج- شرق بولندا
- د- جنوب أسبانيا

35) الحد السياسي الحضاري الذى فرض بقوى خارجية يفصل بين دولتي.....

- أ- مصر وليبيا
- ب- المجر والنمسا
- ج- الهند وباكستان
- د- فرنسا وألمانيا

36) النظام السياسي في صورته الاجتماعية يظهر في

- أ- الإشراف القضائي على الانتخابات
- ب- إنشاء مفاعل الضبعة النووي
- ج- تطوير البنية التحتية في 6 أكتوبر
- د- حفر قناة السويس الجديدة

37) يشير الشعار المقابل الى حلف تم توقيع ميثاقه



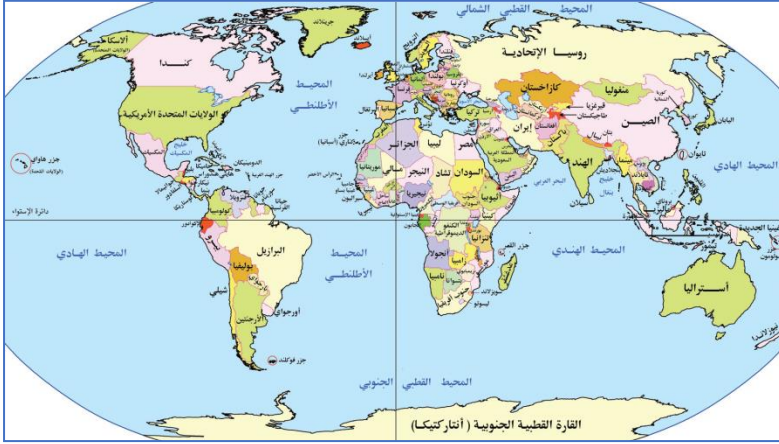
- أ- قبل انعقاد مؤتمر الصلح بباريس
- ب- بعد أزمة الخليج العربي
- ج- بعد حصار مدينه برلين الغربية
- د- عقب انضمام المانيا الغربية للناطو

38) ادرس الخريطة جيداً ثم استنتج

الدولة الأشد عمقاً والتي لاتستطيع الاتصال بالبحر الادرياتي إلا بالمرور فى أراض عدة دول.....



- أ- سلوفاكيا
- ب- النمسا
- ج- سويسرا
- د- المجر



39) ادرس الخريطة العالم السياسية

ثم استنتج

تقطع دائرة الاستواء دولة ذات الشكل

المندمج ذو البروز وهي.....

أ - الكونغو الديمقراطية

ب- أفغانستان

ج - ناميبيا

د- جنوب السودان

40) القوتان العظمتان التي لعبتا دورًا فعالاً في الإسراع بإعلان النظام العالمي الجديد يتشابهان في

أ- اشتراكهما في أحلاف عسكريه

ب- تأثرهما بالصدمات الخارجيه

ج- المظهر التضاريسي لكل منهما

د- انسحابهما من عصبه الأمم

41) (اجتمع مجموعة من الجغرافيين لحل مشكلة ظهور مسائل صغيرة علي الحدود السياسية لدولتين)

تنطبق العبارة السابقة علي أحد طرق حل النزاعات سلميا وهو.....

أ- التحكيم

ب- المفاوضات

ج- التوفيق

د- الوساطة

42) ظهر الدور الإيجابي للأمم المتحدة في حل النزاعات بمنطقة البحر الادرياتي مع.....

أ- انقسام الهند

ب- ظهور الحرب الباردة

ج- ظهور حركة عدم الانحياز

د- تفكك يوغسلافيا

43) تتشابه فرنسا والصين فى أمور عديدة لكنهما يختلفان فى

أ- درجه مركزيه الحكومه

ب- سياسيه التسلح الجماعي

ج- الهيمنه على قرارات الامم المتحدة

د- سهول الاتصال بالعالم الخارجى

44) التكتل الاقتصادي الذى تضمن هيكله أحد المؤسسات التى اعتمدت على آلية الاقتراع المباشر

أ- الاتحاد مغرب عربى

ب- الاتحاد الاوروبي

ج- الابيك

د- الكوميسا

الأسئلة المقالية:

45) دلل جغرافيا

تلعب قوة الدولة فى المجال العسكرى دورًا مؤثرًا فى العلاقات الدولية فى بداية الألفية الثالثة

.....

.....

.....

46) مامدى مصداقية العبارة ؟

يرتبط شعار صنع فى الكوميسا ارتباطًا وثيقًا بمرحلة السوق المشتركة .

.....

.....

.....