

النماذج الاسترشادية لمادة الجغرافيا

الصف الثالث الثانوي

النموذج التاسع

1- (تدرس التنظيم السياسي الداخلي للدولة " ، تهتم بالإمتزاج الديموغرافي ")

نستنتج أن العبارتان تمثلان على الترتيب افكار علمي.....

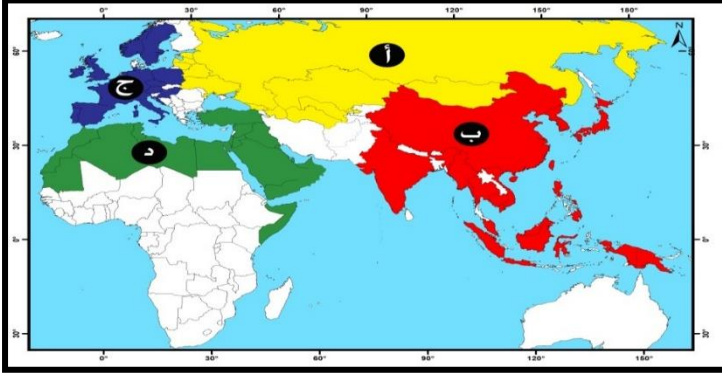
- أ- الجيوبولوتيك والجغرافيا السياسية
ب - الجغرافيا السياسية والجيوبولوتيك
ج - الحدود السياسية والجيوبولوتيك
د- الجيوبولوتيك والحدود السياسية

2- يتم دراسة علاقات الدولة الخارجية ومواردها ذات العائد من خلال مجال

- أ - المشكلات السياسية
ب- التحليل السياسي للقوة
ج- الدولة كوحدة سياسية
د- العلاقات الدولية

3- ادرس الخريطة ثم استنتج:

توجد مجموعة دول سعت للحصول على مكانة بالساحة الدولية من خلال النظام العالمي الجديد يرمز لها بالرمز



أ - (أ)

ب- (ب)

ج- (ج)

د- (د)

4- توجد علاقة بين الطبيعة البحرية على أطراف الدولة وافكار العالم.....

أ - أرسطو

ب- ابن خلدون

ج- كلين

د- راتزل

5- يتضح من تحليل نظم المعلومات للشكل

المقابل انه يمثل منطقة نواة حدودية بين

دولتي.....

أ- ألمانيا وفرنسا

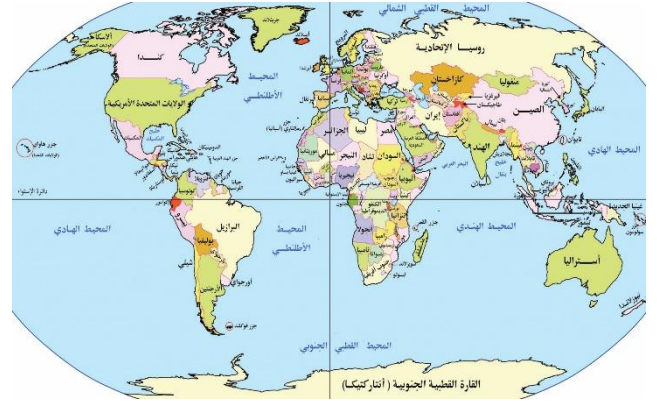
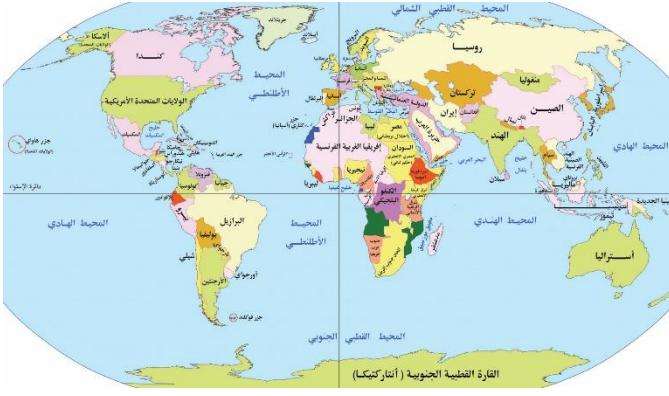
ب- كندا والولايات المتحدة

ج- فرنسا وأسبانيا

د- الولايات المتحدة والمكسيك



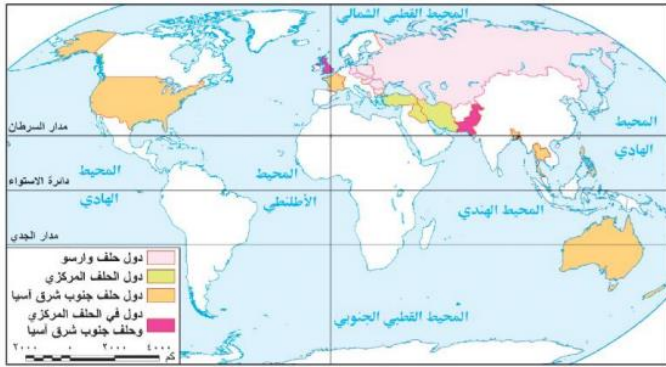
6- ادرس الخريطة التي أمامك ثم استنتج



يتشابه شكل امبراطورية النمسا والمجر مع شكل دولة تواجه مشكلات في ظل النظام العالمي الجديد

- ب- هجرة وافدة
- د- نزاعات داخلية

- أ- هجرة الرعاة
- ج- أحلاف عسكرية



7- ادرس خريطة الأحلاف العسكرية ثم استنتج:
دولة كانت عضو في حلفين عسكريين بالعالم القديم

- أ- إيران
- ب- باكستان
- ج- بنجلاديش
- د- العراق

8- بالاستعانة بخريطة إفريقيا " تتمتع دول العالم بحريتها في المياه الدولية، وتمارس سيادتها المطلقة في مياهها الإقليمية "

في ضوء العبارة استنتج
تنتهي السيادة القانونية المطلقة عند الحافة الخارجية للمياه الإقليمية على
الحدود الغربية لدولة...

- ب- نيجيريا
- د- الجابون

- أ- موزمبيق
- ج- تنزانيا



9- (أكدت اتفاقية المياه الإقليمية بالأمم المتحدة حسب قانون البحار (1982) سيادة الدولة على 12 ميلاً بحرياً والحقوق في المناطق البحرية الأخرى)

في ضوء العبارة استنتج

الدولتان التي يمكن أن تمدا سيادتهما أكثر 12 ميلاً بحرياً هما.....

أ- اليابان والارجنتين

ب- الصين والامارات

ج- فرنسا والنمسا

د- شيلي وبوليفيا

10- (تتعدد العوامل الطبيعية التي تؤثر على قوة الدولة ومنها الشكل)

في ضوء العبارة استنتج

أقرب الدول تحقيقاً للاكتفاء الذاتي من الغذاء هي الدول التي يغلب عليها الشكل.....

أ- المندمج ذو البروز

ب- الشريطي العرضي

ج- الشريطي الطولي

د- البحري المجزأ

11- أدى تصاعد النزاعات في الشرق الأوسط إلى.....

أ- تراجع أهمية الموقع الجغرافي للمنطقة

ب- تراجع أهمية الممرات الاستراتيجية بالمنطقة

ج- زيادة المخاوف المتعلقة بأمن الطاقة العالمي

د- استقرار أسواق الطاقة العالمية

12- تتميز الأمة عن الدولة في بعض السمات تتمثل في أي من العبارات التالية ؟

أ- كيان سياسي يتمتع بالسيادة على منطقة جغرافية محددة.

ب- تقوم بتنظيم الحياة الاجتماعية والاقتصادية داخل حدودها.

ج- تعتمد على مؤسسات لإدارة شؤون الحياة وتوفير الخدمات.

د- امتلاكها تراث شعبي شديد الخصوصية

13- أقل أنواع الأقليات انتشاراً في العالم توجد في دولة

أ- سويسرا.

ب- إيطاليا.

ج- الولايات المتحدة الأمريكية.

د- روسيا الاتحادية.

14- ادرس الأشكال الآتية ثم استنتج:

أي من الأشكال التالية يمثل دولة طبيعتها الجغرافية أكثر تأثير إيجابي اقتصادي واجتماعي على قوة الدولة؟

الشكل المشار إليه بالرمز.....



ع



ل



ص



س

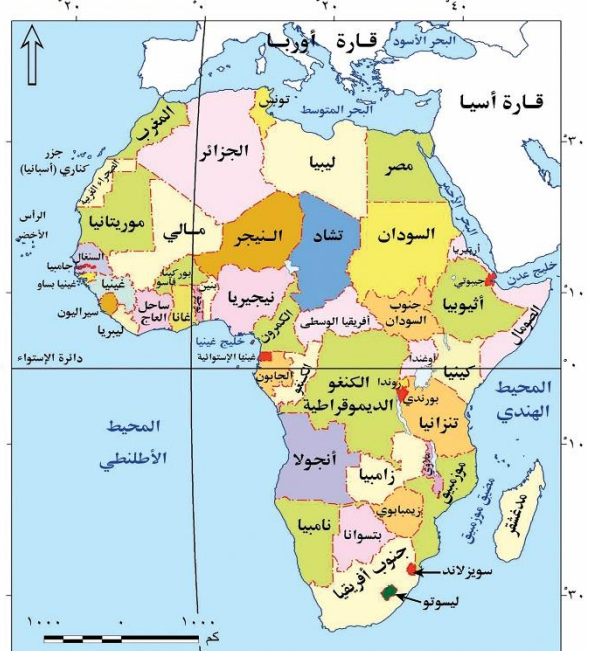
- أ- (س) ب (ص) ج- (ل) د- (ع)
- 15 استضافة مصر لمعظم مؤتمرات السلام يؤكد على قوة مصر
- أ- التنظيمية
ب- المورفولوجية
ج- الديموغرافية
د- العسكرية
- 16- تتسم الدول التي يوجد بها مناطق نواة دينية عالمية بكونها ذات عواصم
- أ- ساحلية
ب- قومية
ج- مستحدثة
د- داخلية
- 17- تم ترسيم الحدود السياسية في أوروبا على أساس
- أ- العامل التاريخي
ب- الجانب الديني
ج- العامل المورفولوجي
د- الوعاء الثقافي
- 18- تتسم التخوم بصفة مورفولوجية تميزها عن الحدود السياسية تتمثل في
- أ- الإطار المكاني
ب- الثبات والاستقرار
ج- وجود الموارد
د- البعد الزمني
- 19- (تتعدد العوامل التي أثرت على نشأة الحدود السياسية في العالم) في ضوء العبارة وضح العامل الذي أدى إلى رسم الحدود في قارة إفريقيا هو
- أ- العامل الطبيعي
ب- القوى الخارجية
ج- العامل الديموغرافي
د- العامل الاقتصادي
- 20- انتشار الصراعات المسلحة والكوارث الطبيعية في العديد من مناطق العالم دفع الأمم المتحدة وحلف الناتو إلى إرسال مساعدات إنسانية للاجئين في
- أ- قرغيزستان وطاجكستان
ب- باكستان وأفغانستان
ج- تركمنستان وأذربيجان
د- كازخستان وأوزبكستان
- 21- ترتفع الكثافة السكانية في غالبية الدول التي تتبع نظام الإدارة المركزية يرجع ذلك للعامل
- أ- الانتوغرافي
ب- الإداري
ج- المورفولوجي
د- السياسي
- 22- الفكرة المحورية التي يقوم عليها النظام الرئاسي هي
- أ- الفصل بين السلطات
ب- سيطرة مطلقة لرئيس الدولة
ج- تغليب السلطة التنفيذية
د- تغليب السلطة التشريعية

- 23- يخرج عن مفهوم النظام السياسي في صورته المؤسسية
- أ- وضع الموازنة العامة
ب- ترسيم الحدود السياسية
ج- الدخول في كتلة اقتصادية
د- استثمار المناطق الصحراوية

- 24- العوامل التي تساعد على تحقيق الامتزاج الثقافي داخل الدولة.....
- أ- المناخ والجبال.
ب- السهول واللغة.
ج- الجبال والبنية التحتية.
د- الغابات والشكل المندمج.

- 25- تتشابه العراق والاردن والكونغو الديمقراطية في عدة سمات يخرج عنها
- أ- الانضمام للأحلاف العسكرية
ب- الاتصال بالعالم دون عوائق
ج- تقارب طول الساحل بهم
د- خضوعهم للاستعمار الغربي

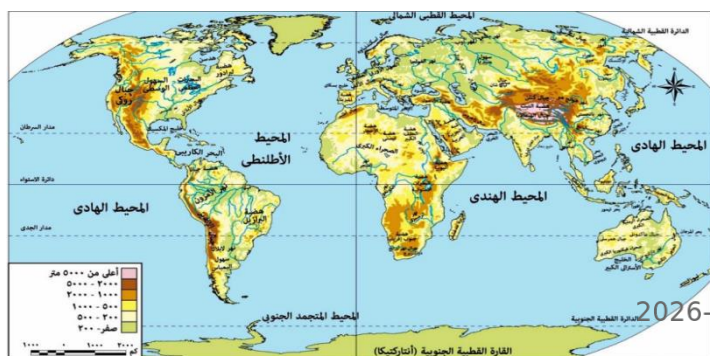
26- ادرس خريطة افريقيا الطبيعية والسياسية استنتج:



- نهر يفصل بين دولتين تنتمي احدهما لتكتل اثنوغرافي خالص هو نهر.....
- أ- النيل
ب- السنغال
ج- النيجر
د- الزمبيزي

27- ادرس خريطة العالم الطبيعية ثم استنتج:
نهران يتفقان في المصب ونوع النبات الطبيعي
المحيط بهما، ويختلفان في الاتجاه هما نهري..

-5-



أ- النيل والنيجر

ب- دارلنج ولابلاتا

ج- الدانوب والراين

د- الكونغو والأمازون

28- تشترك دولة سويسرا في حدودها الجنوبية مع دولة.....

أ - بحرية مجزأة تحترم حقوق الانسان.

ب- برية بحرية مجزأة.

ج- وحدوية ذات نظام رئاسي.

د -حققت كل شروط كوينهاجن.

29- ادرس الخريطة ثم استنتج:

إذا استقلت كشمير عن الهند وباكستان فإن أطول

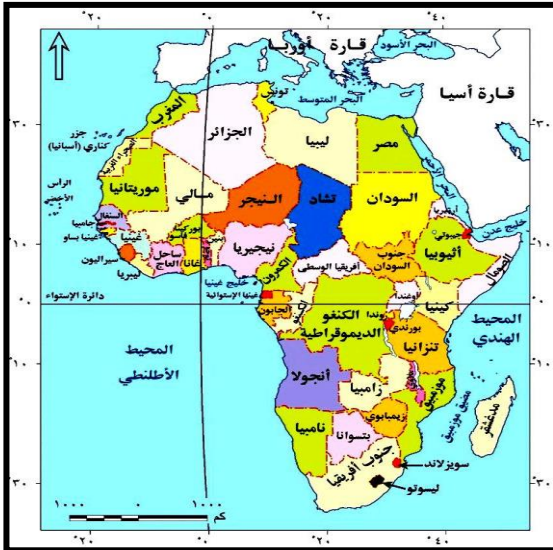
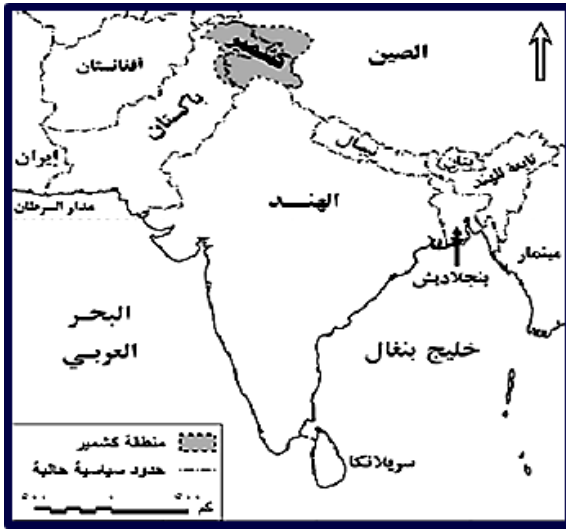
حدودها السياسية سيكون مع دولة.....

أ- تستقل إدارتها المحلية عن الحكومة المركزية.

ب- اتحادية متنوعة في الموارد والامكانات البشرية.

ج- تتسم إدارتها بالنظام اللامركزي سياسياً.

د- مركزية يسهل السيطرة عليها وقت الحرب.



30- ادرس الخريطة ثم استنتج

دولة تمر بها دائرة الاستواء

وتشرف على موقع استراتيجي.....

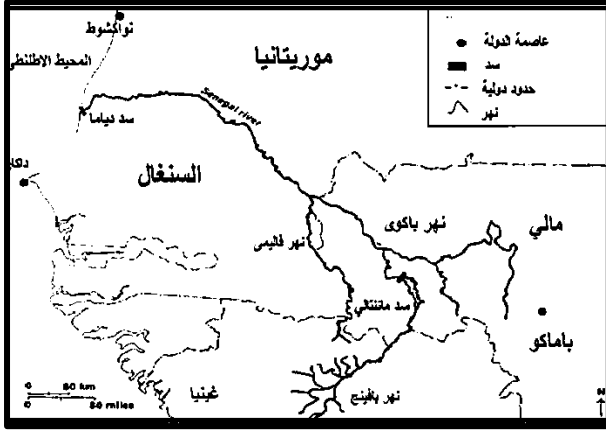
أ- كينيا

ب- الصومال

ج- الكونغو

د- أوغندا

31- باستخدام الخريطة المقابلة يعد الحد السياسي الشمالي لدولة السنغال حدًا



- أ- طبيعيًا قد يغير مجراه
- ب- طبيعيًا يتميز بالثبات
- ج- حضاريًا اتنوغرافيا
- د- هندسيًا فلكيًا فاصلاً

32- في ضوء ما درست استنتج من الخريطة التالية:

توجد حدود بين بعض الدول تتشابه مع ترسيم الحدود السياسية بالخريطة التي امامك بالخريطة تكثر في قارتي

.....



- أ- أمريكا الجنوبية وأوروبا.
- ب- إفريقيا وأمريكا الشمالية.
- ج- استراليا وأمريكا الجنوبية.
- د- استراليا وأوروبا.

33- حدد العبارة الأقرب لدور المساعي الحميدة في حل النزاعات وقت السلم

- أ - يجتمع بالأطراف لحل يلبي احتياجات الجميع.
- ب- تشكيل لجنة تقدم تقارير وتقرح حلاً للنزاع.
- ج - يصدر حكماً نهائياً ملزماً للطرفين.
- د- تدخل دولة لتقريب وجهات النظر.



34- ادرس الخريطة ثم استنتج:

تتشابه دولة بوركينا فاسو في موقعها الجغرافي وعدد الدول الحبيسة والساحلية المجاورة لها مع دولة....

- أ- أثيوبيا
- ب- تشاد
- ج- مالي
- د - النيجر

35- ادرس الخريطة ثم استنتج:

- أ- مواقع استراتيجية توفر الحماية والدفاع.
- ب- وفرة الموارد المعدنية اللازمة للصناعة.
- ج- المظهر التضاريسي الجبلي.
- د- سهولة عمل البنية التحتية

41- يوجد عامل مشترك بين مفهوم النظام السياسي في صورته المجتمعية واختصاصات السلطة المحلية لدولة متعددة السلطات.....

- أ - فرنسا
- ب- سويسرا
- ج- الصين
- د- اليابان

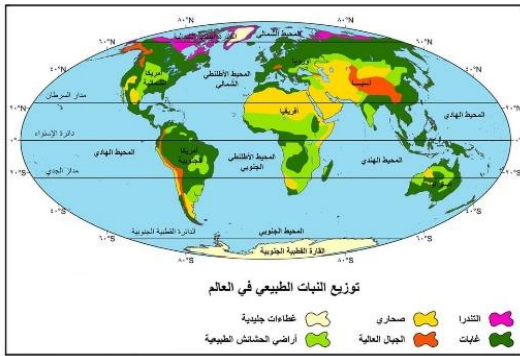
42- (هناك عوامل مؤثرة على مستقبل خريطة العالم السياسية منها الانفاق العسكري للدولة) تنطبق العبارة السابقة على منطقة ...

- أ- شرق أوروبا
- ب- الشرق الأقصى
- ج- الشرق الأوسط
- د- غرب أفريقيا

43- ادرس الخريطة ثم استنتج:

الدولة التي تستطيع استغلال نباتها الطبيعي أثناء الحروب هي

- أ - اندونيسيا
- ب- الجزائر
- ج- موريتانيا
- د- إيران



44-- تتوزع مهام السلطة التنفيذية على أكثر من جهة في النظام.....

- أ- الرئاسي
- ب- شبه الرئاسي
- ج- البرلماني
- د- الجمهوري.

الأسئلة المقالية

45- " الدولة أحد مجالات الجغرافيا السياسية القديمة والحديثة " في ضوء العبارة السابقة وضح:

كيف تتم دراسة الدولة كأحد مجالات الجغرافيا السياسية

.....
.....
.....
.....
46- أيد صحة العبارة مع التطبيق بمثال:

ساهمت الامم المتحدة سياسيا في حل بعض المشكلات داخل تجمع دول المغرب العربي

.....
.....
.....
.....